



وزارة التربية والتعليم  
الإدارة المركزية لتطوير المناهج  
مكتب مستشار الرياضيات

# برعاية معالي وزير التربية والتعليم السيد الأستاذ / محمد عبد اللطيف

ونوجيهات رئيس الإدارة المركزية لتطوير المناهج

**د / أكرم حسن**

إشراف علمي  
مستشار الرياضيات

**أ / منال عزقول**

أداءات و تقييمات

للفص الأول الابتدائي  
للعام الدراسي 2024 / 2025  
إعداد

**أ / علي سيف**

**أ / صباح عبد الواحد**

مراجعة

**أ / عماد حسن عمر**

ترجمة

**أ / رغد محمد عبد العلي**

مراجعة الترجمة

**أ / دريد علي**

**First grade - first semester - second week - (weekly evaluation) - until the lesson of comparing things in terms of size, shape and color**

1. count and then write the number:

2. Draw points in the frame by number and write the number:

--	--	--	--	--



3. Count the stuff in each group and choose the number :



2	3	1
---	---	---



0	1	2
---	---	---




4	5	3
---	---	---

4. Count and write the appropriate number :

5. Count and write the appropriate number :

6. Circle the larger size :



7. count and then write the number:



8. What is the number that comes after the number zero?

9. Circle according to the number of points in the frame:



	●	●	●	●
--	---	---	---	---

			●	●
--	--	--	---	---

		●	●	●
--	--	---	---	---

10. Write the missing numbers on the line:



11. Count and match according to the appropriate number:

٤



2






3



12. circle on the largest size:



13. Complete the drawing to get the required number:



14. - How many oranges are in the picture?



15. Write the missing numbers on the number line:



16. Circle around the appropriate number of words :

